

期末综合素质测评(二)

(时间: 90分钟 总分: 100分)

题号	一	二	三	四	五	六	总分	等级
得分								

同学们,对自己有信心吗? 眼睛放亮看清题目,相信你一定会取得好成绩的!

一、我会填。(每空 1 分,共 15 分)

1. 一个数的 4 倍是 424,这个数是()。
2. 25×80 的积的末尾有()个 0。
3. 除数是 8,商是 19,余数是 7,被除数是()。
4. 民生大楼营业时间从上午 9:00 到晚上 8:30,全天营业时间共()小时()分。
5. 小明今年 8 岁,可他只过了两个生日,他的生日是()月()日。
6. $548 \div 4$ 的商是()位数。
7. 一年有()个大月,平年全年有()天。
8. 在括号里填上适当的单位名称。
黑板长 4() 一枚邮票的面积是 4()
小云身高 140() 一块手帕的面积是 4()
9. 妈妈为小明准备了下列早餐:主食有馍片、面包;饮品有牛奶、豆浆、果汁。小明每天早晨起床要吃一种主食,喝一种饮品,他有()种不同的搭配方法。

二、我当小法官。(对的画“√”,错的画“×”)(8 分)

1. 2015 年 2 月是 28 天。 ()
2. 凌晨 4 时 30 分用 24 时计时法表示为 14 时 30 分。 ()
3. 有余数的除法,除数是 9,余数一定小于 8。 ()

4. 中华人民共和国是 1949 年 10 月 1 日成立的。 ()
5. 10 元 4 角 8 分用小数表示是 10.48 元。 ()
6. 被除数末尾有 0, 商的末尾也一定有 0。 ()
7. 平面图的左方是东。 ()
8. 一位数除三位数, 商一定是三位数。 ()

三、我会把正确答案的序号填在括号里。(10 分)

1. 两位数乘两位数, 积最多是()位数。
A. 二 B. 三 C. 四
2. 一月份最多可以有()个星期日。
A. 4 B. 5 C. 6
3. 面积相等的长方形和正方形,()的周长大一些。
A. 长方形 B. 正方形 C. 不一定
4. 算式 $\triangle \div \square = \bigcirc$ 表示()
A. \triangle 是 \square 的 \bigcirc 倍 B. \bigcirc 是 \triangle 的 \square 倍
C. \square 是 \bigcirc 的 \triangle 倍
5. 用 3 个面积为 1 平方厘米的正方形拼成一个长方形, 这个长方形的周长是()
A. 12 厘米 B. 8 厘米 C. 8 平方厘米

四、我会算。(共 18 分)

1. 计算下面各题并且验算。(12 分)

$$249 \div 8$$

$$305 \div 5$$

$$36 \times 71$$

$$31 \times 29$$

$$7.8 + 8.7$$

$$16.8 - 9.9$$

2. 列式计算。(6分)

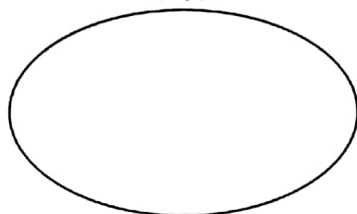
(1) 一个数的7倍是714,求这个数。

(2) 比74的4倍多16的数是多少?

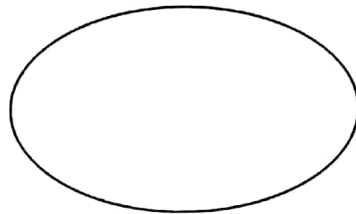
五、分一分。(8分)

3.81	54
52	1234
568.9	
0.12	0

小数



整数




六、我会解决问题。(共41分)



1. 每分钟大约行100米,他50分钟行多少米?合多少千米?

(6分)

2. 一本 , 姐姐每天读30页,6天读完。如果小华每天读9页,需要多少天读完?(7分)

3. 一个工厂八月份用水 279 吨,九月份平均每天用水 7 吨,九月份比八月份节约用水多少吨?(7 分)
4. 教室后面的墙壁长 6 米、宽 4 米,墙上有一块玻璃,面积是 5 平方米。现在要粉刷这面墙壁,要粉刷的面积是多少平方米?(7 分)
5. 从聪聪家到学校有 3 条路,从学校到科技馆有 2 条路,如果聪聪从家先到学校,再去科技馆,一共有几种不同的走法?(6 分)
6. 丽丽、红红、小杰、小平住在相邻的四个房间里。丽丽住在红红的东面,小杰与丽丽不相邻,小平不住在小杰的东面。你知道他们分别住在哪个房间吗? 在房间下面标注出来。(8 分)



期末综合素质测评(二)

一、1. 106 2. 3 3. 159 4. 11 30 5. 2 29 6. 三 7. 7 365

8. 米 平方厘米 厘米 平方分米 9. 6

二、1. \checkmark 2. \times 3. \times 4. \checkmark 5. \checkmark 6. \times 7. \times 8. \times

三、1. C 2. B 3. A 4. A 5. B

四、1. 31……1 61 2556 899 16.5 6.9

2. (1) 102 (2) 312

六、1. $100 \times 50 = 5000$ (米) = 5(千米) 2. $30 \times 6 = 180$ (页) $180 \div 9 = 20$ (天)

3. $7 \times 30 = 210$ (吨) $279 - 210 = 69$ (吨) 4. $6 \times 4 = 24$ (平方米) $24 - 5 = 19$ (平方米)

5. 6 种